



Clip: 33

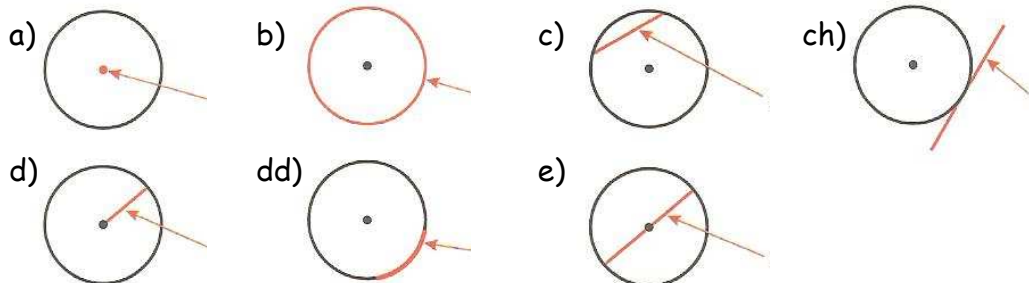
Erbyn: _____

GWAITH CARTREF

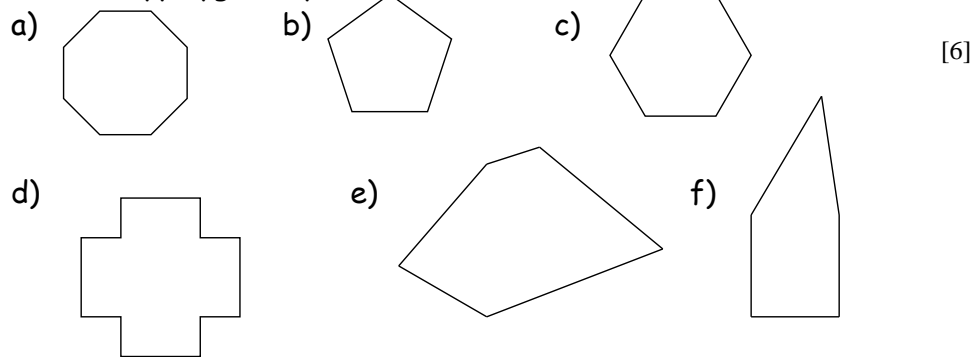
PENNOD 24: CYLCHOEDD A PHOLYGONAU

1. Enwch y rhannau o gylch isod:

[7]

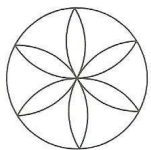


2. Enwch y polygonau yma



3. Edrychwch ar cwestiwn 2, nodwch I lawr pwy rhai sydd yn polygonau rheolaidd. Esboniwch ystyr y term "polygonau rheolaidd" [2]

4. Gan ddefnyddio cwmpawd lluniwch y siap yma: [1]



5. Lluniwch gylch gyda radiws o 5cm ac yna defnyddiwch i ffurfio hecsagon rheolaidd. [2]

18



Clip: 33

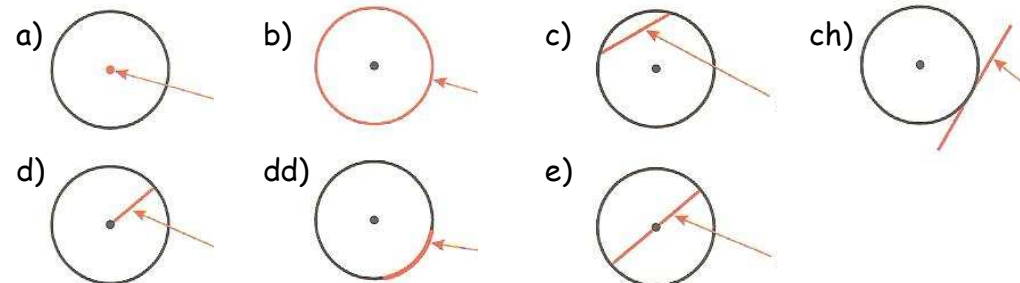
Erbyn: _____

GWAITH CARTREF

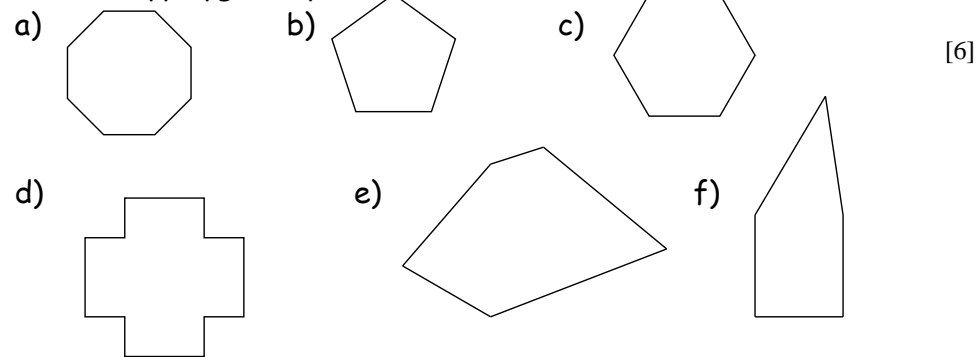
PENNOD 24: CYLCHOEDD A PHOLYGONAU

1. Enwch y rhannau o gylch isod:

[7]




2. Enwch y polygonau yma



3. Edrychwch ar cwestiwn 2, nodwch I lawr pwy rhai sydd yn polygonau rheolaidd. Esboniwch ystyr y term "polygonau rheolaidd" [2]

4. Gan ddefnyddio cwmpawd lluniwch y siap yma: [1]



5. Lluniwch gylch gyda radiws o 5cm ac yna defnyddiwch i ffurfio hecsagon rheolaidd. [2]

18