



















Erbyn: _____

GWAITH CARTREF

PENNOD 42: ARDDANGOS DATA

1. Cofnododd Oli nifer, a lliw, y ceir oedd wedi mynd heibio ei dŷ mewn 30 munud. Mae'r pictogram isod yn dangos y canlyniadau.

Key  = 8 cars

Red	 
Blue	   
Silver	    
Green	  
Yellow	
Black	

- a) Aeth 24 car du heibio ei dŷ. Dangoswch hyn yn y pictogram.
 - b) Faint o geir glas oedd wedi mynd heibio ei dŷ?
 - c) Faint o geir aeth heibio i gyd?
- [4]

2. Lluniwch graff llinell i arddangos y data isod:

Dydd	Llun	Maw	Mer	Iau	Gwe	Sad	Sul
Tymheredd (°C)	12	15	19	18	14	11	13

3. Lluniwch siart gylch i arddangos y data isod

Hoff Lliw	Amllder
Glas	15
Coch	20
Porffor	35
Arall	2

[2]
[4]

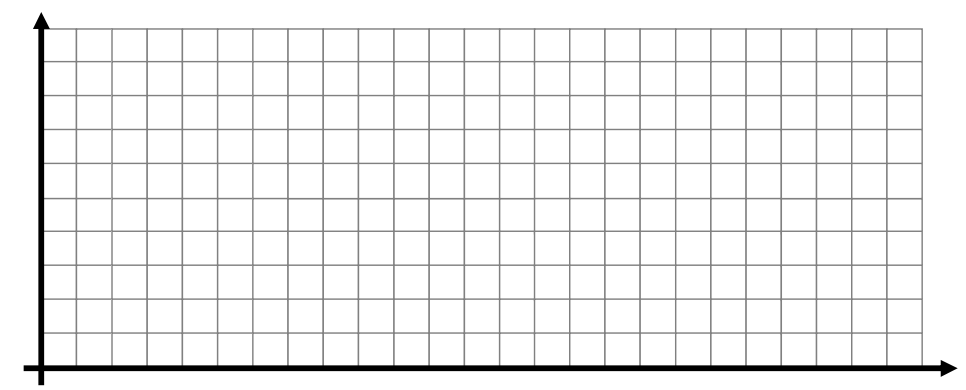


Erbyn: _____

GWAITH CARTREF

PENNOD 42: ARDDANGOS DATA

2. Graff Llinell



3. Siart Gylch

