



Erbyn: _____

GWAITH CARTREF

PENNOD 43: MESURAU CYFARTELEDD AC AMREDIAD

1. Cyfrifwch y (i) Cymedr, (ii) Modd, (iii) Canolrif a'r (iv) Amrediad am y data canlynol: [8]

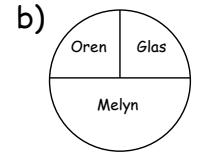
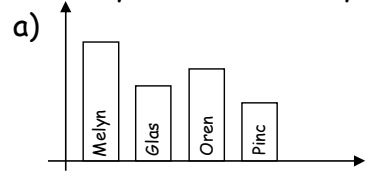
- a) 74Kg, 65Kg, 80Kg, 74Kg, 73Kg, 70Kg, 61Kg, 79Kg, 67Kg, 60Kg
- b) 65%, 90%, 85%, 56%, 85%

2. Mae Sue yn fesur taldra disgyblion mewn dosbarth 9C. Mae'r tabl yn dangos y canlyniadau: [1]

Taldra mewn cm (i'r cm agosaf)	111-120	121-130	131-140	141-150
Nifer o ddisgyblion	3	7	14	6

a) Beth yw'r grwp moddol?

3. Beth yw'r lliw moddol yn y graffiau isod: [2]



4. Mae'r heddlu yn mesur cyflymder ceir ar heol brysur rhwng 08:00 a 08:30 un fore. Nodwyd y cyflymderoedd mewn milltir yr awr: [4]

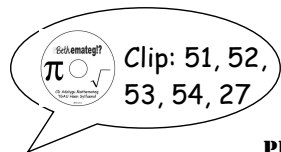
- 40, 33, 36, 49, 31, 32, 35, 34, 35, 36, 34, 31, 32, 38, 37, 31, 48, 46, 32, 31, 32, 32, 32, 35, 36, 34, 36, 41, 49, 47, 45, 32

Cwblhewch y tabl amllder isod.

Cyflymder(mya)	Tali	Amllder
$30 \leq s < 35$		
$35 \leq s < 40$		
$40 \leq s < 45$		
$45 \leq s < 50$		

a) Beth yw'r dosbarth moddol?

b) Cyfrifwch amrediad mewn cyflymderoedd y ceir. 15



Erbyn: _____

GWAITH CARTREF

PENNOD 43: MESURAU CYFARTELEDD AC AMREDIAD

1. Cyfrifwch y (i) Cymedr, (ii) Modd, (iii) Canolrif a'r (iv) Amrediad am y data canlynol: [8]

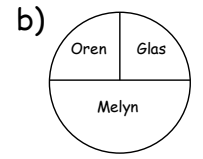
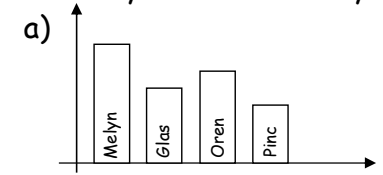
- a) 74Kg, 65Kg, 80Kg, 74Kg, 73Kg, 70Kg, 61Kg, 79Kg, 67Kg, 60Kg
- b) 65%, 90%, 85%, 56%, 85%

2. Mae Sue yn fesur taldra disgyblion mewn dosbarth 9C. Mae'r tabl yn dangos y canlyniadau: [1]

Taldra mewn cm (i'r cm agosaf)	111-120	121-130	131-140	141-150
Nifer o ddisgyblion	3	7	14	6

a) Beth yw'r grwp moddol?

3. Beth yw'r lliw moddol yn y graffiau isod: [2]



4. Mae'r heddlu yn mesur cyflymder ceir ar heol brysur rhwng 08:00 a 08:30 un fore. Nodwyd y cyflymderoedd mewn milltir yr awr: [4]

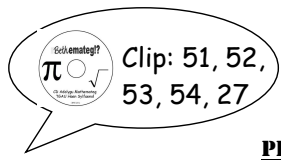
- 40, 33, 36, 49, 31, 32, 35, 34, 35, 36, 34, 31, 32, 38, 37, 31, 48, 46, 32, 31, 32, 32, 32, 35, 36, 34, 36, 41, 49, 47, 45, 32

Cwblhewch y tabl amllder isod.

Cyflymder(mya)	Tali	Amllder
$30 \leq s < 35$		
$35 \leq s < 40$		
$40 \leq s < 45$		
$45 \leq s < 50$		

a) Beth yw'r dosbarth moddol?

b) Cyfrifwch amrediad mewn cyflymderoedd y ceir. 15



Clip: 51, 52,
53, 54, 27

Erbyn: _____

GWAITH CARTREF

PENNOD 43: MESURAU CYFARTALEDD AC AMREDIAD