


GWAITH CARTREF**PENNOD 39: TEBYGOLRWYDD 1**Clip: 65,
66, 671. Dewiswch y **gair** gorau er mwyn cwblhau'r brawddegau isod:

Amhosib, Anhebygol, Siawns deg, Tebygol, Sicr

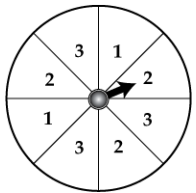
Beth yw'r tebygolrwydd o dewis cownter coch pan fod y canlynol yn y bag:

- Cownteri du yn unig.
- Cownteri coch yn unig.
- 1 cownter melyn a 9 cownter coch. [5]
- 6 cownter melyn a 6 cownter coch.
- 3 cownter coch, 9 cownter melyn a 6 cownter du.

2. Ysgrifennwch rhif ar bob cerdyn I wneud y datganiad yn wir:

- Mae'n debygol o fod yn 2.  [1]

3. Mae'r troellwr isod yn troi unwaith. Beth yw'r tebygolrwydd o:

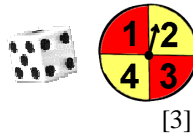


- glanio ar 3.
- dim glanio ar 3.
- glanio ar odrif. [3]

4. Mae llythyren yn cael ei dewis ar hap o'r gair AMMAN VALLEY.

Beth yw'r tebygolrwydd bydd e'n: a) A b) B? [2]

5. Rhestrwch holl canlyniadau posib pan mae dis cyffredin yn cael ei taflu a mae'r troeller yma yn cael ei droellu ar yr un pryd. (Hint: Gwnewch tabl)



6. Dyma lliwiau ceir ag aeth heibio'r ysgol ar un diwrnod. [2]

Lliw	Coch	Arian	Du	Gwyn	Gwyrdd	Arall
Amllder	6	9	12	3	5	15


Defnyddiwch y manylion yma i amcangyfrifo tebygolrwydd bydd car arian (*silver*) yn mynd heibio'r ysgol. 16**GWAITH CARTREF****PENNOD 39: TEBYGOLRWYDD 1**Clip: 65,
66, 671. Dewiswch y **gair** gorau er mwyn cwblhau'r brawddegau isod:

Amhosib, Anhebygol, Siawns deg, Tebygol, Sicr

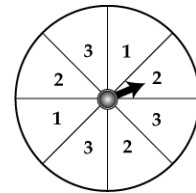
Beth yw'r tebygolrwydd o dewis cownter coch pan fod y canlynol yn y bag:

- Cownteri du yn unig.
- Cownteri coch yn unig.
- 1 cownter melyn a 9 cownter coch. [5]
- 6 cownter melyn a 6 cownter coch.
- 3 cownter coch, 9 cownter melyn a 6 cownter du.

2. Ysgrifennwch rhif ar bob cerdyn I wneud y datganiad yn wir:

- Mae'n debygol o fod yn 2.  [1]

3. Mae'r troellwr isod yn troi unwaith. Beth yw'r tebygolrwydd o:

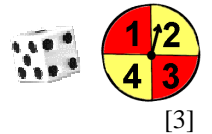


- glanio ar 3.
- dim glanio ar 3.
- glanio ar odrif. [3]

4. Mae llythyren yn cael ei dewis ar hap o'r gair AMMAN VALLEY.

Beth yw'r tebygolrwydd bydd e'n: a) A b) B? [2]

5. Rhestrwch holl canlyniadau posib pan mae dis cyffredin yn cael ei taflu a mae'r troeller yma yn cael ei droellu ar yr un pryd. (Hint: Gwnewch tabl)



6. Dyma lliwiau ceir ag aeth heibio'r ysgol ar un diwrnod. [2]

Lliw	Coch	Arian	Du	Gwyn	Gwyrdd	Arall
Amllder	6	9	12	3	5	15

Defnyddiwch y manylion yma i amcangyfrifo tebygolrwydd bydd car arian (*silver*) yn mynd heibio'r ysgol. 16