

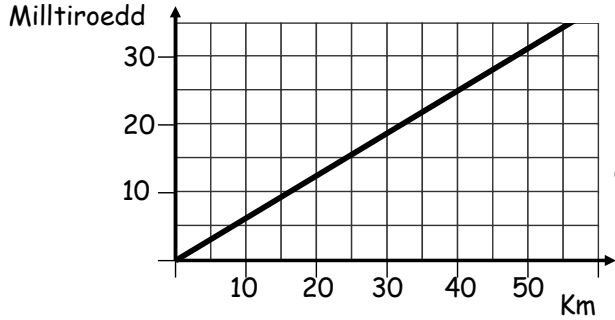


GWAITH CARTREF

Erbyn: _____

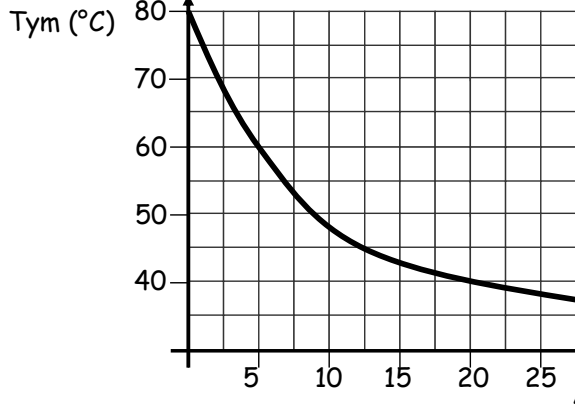
PENNOD 25: DEHONGLI GRAFFIAU

1. Mae'r graff yma yn trawsnewid rhwng Km a milltiroedd. [4]



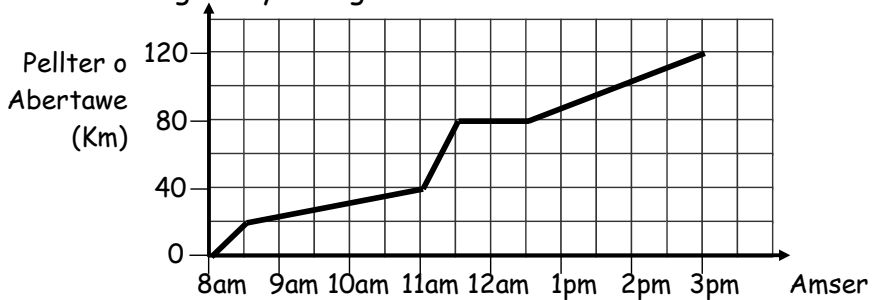
Defnyddiwch y graff i ddarganfod beth yw
 a) 20Km mewn milltiroedd
 b) 25 miles mewn Km

2. Mae'r graff yn dangos tymheredd paned o dê wrth iddo oeri. [4]



a) Beth yw'r tymheredd ar ôl 5 munud?
 b) Ar ôl faint o funudau ydy tymheredd y tê yn 45°C?

3. Mae'r graff yn dangos taith John a rei beic o Abertawe. [4]



a) Am ba mor hi odd John yn llonydd?
 b) Rhwng pa amseroedd oedd John yn teithio a rei gyflymaf?
 4. Lluniwch graff pellter-amser i ddangos eich taith i'r ysgol. Rhowch esboniad.

[4]

 16

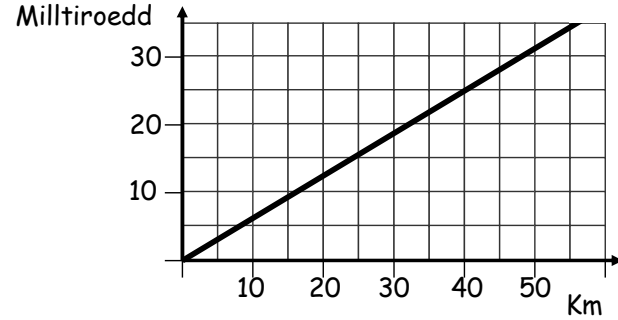


GWAITH CARTREF

Erbyn: _____

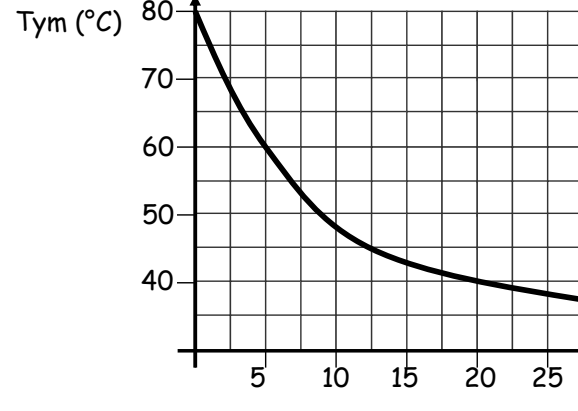
PENNOD 25: DEHONGLI GRAFFIAU

1. Mae'r graff yma yn trawsnewid rhwng Km a milltiroedd. [4]



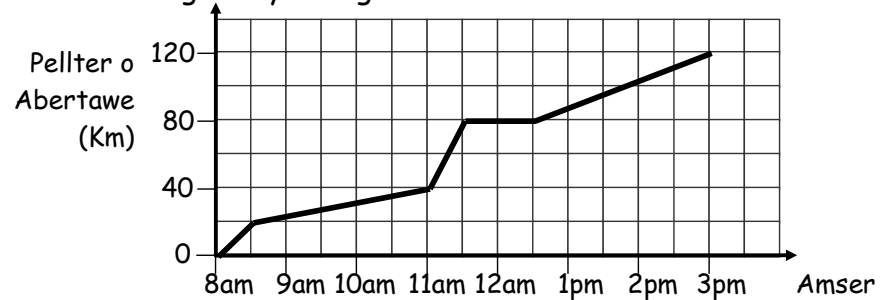
Defnyddiwch y graff i ddarganfod beth yw
 a) 20Km mewn milltiroedd
 b) 25 miles mewn Km

2. Mae'r graff yn dangos tymheredd paned o dê wrth iddo oeri. [4]



a) Beth yw'r tymheredd ar ôl 5 munud?
 b) Ar ôl faint o funudau ydy tymheredd y tê yn 45°C?

3. Mae'r graff yn dangos taith John a rei beic o Abertawe. [4]



a) Am ba mor hi odd John yn llonydd?
 b) Rhwng pa amseroedd oedd John yn teithio a rei gyflymaf?
 4. Lluniwch graff pellter-amser i ddangos eich taith i'r ysgol. Rhowch esboniad.

[4]

 16