



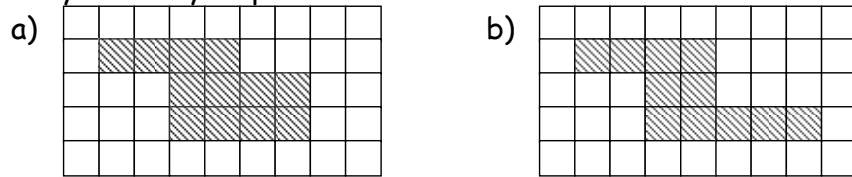
Clip: 63,
64, 68, 69,
86, 87

GWAITH CARTREF

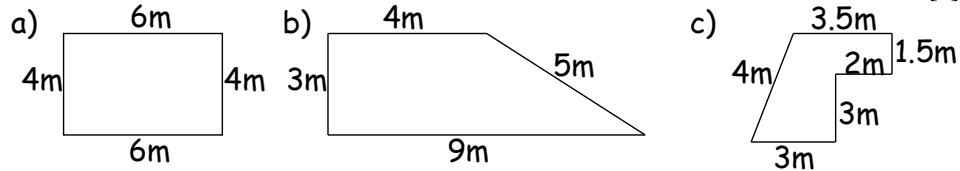
Erbyn: _____

PENNOD 34: PERIMEDR, ARWYNEBDD A CHYFAINT

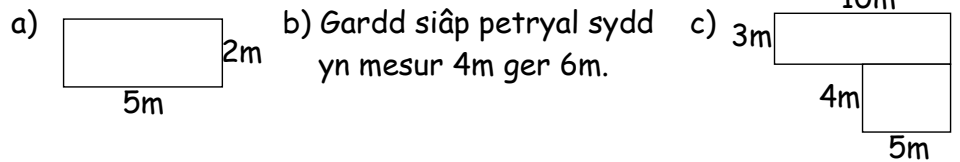
1. Cymerwch bob sgwar isod fel 1cm^2 . Cyfrifwch perimedr ac arwynebedd y siapau isod. [4]



2. Cyfrifwch perimedr y siapau isod: [3]

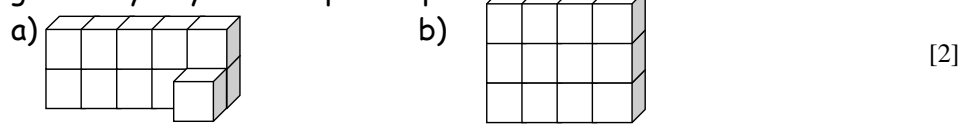


3. Cyfrifwch arwynebedd a perimedr y siapau isod: [4]

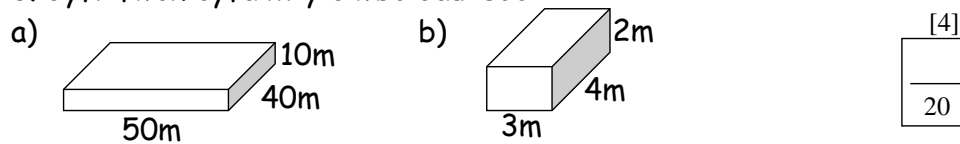


4. Mae llawr yn mesur 4m ger 7m.
a) Darganfyddwch arwynebedd y llawr
b) Mae Ian yn gosod carped i lawr sydd yn costi £10 y metr sgwar. Faint ydy hi'n gosti i carpedi'r llawr? [3]

5. Mae'r diagramau wedi'u wneud o ciwbau sydd yn 1cm^3 . Faint o giwbau sydd yn wneud pob siap? [2]



6. Cyfrifwch cyfaint y ciwboidau isod: [4]



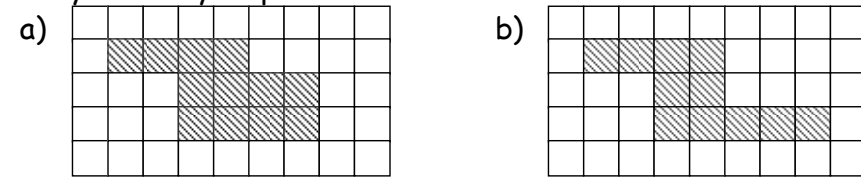
Clip: 63,
64, 68, 69,
86, 87

GWAITH CARTREF

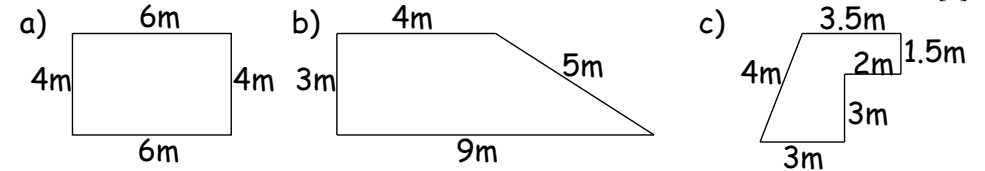
Erbyn: _____

PENNOD 34: PERIMEDR, ARWYNEBDD A CHYFAINT

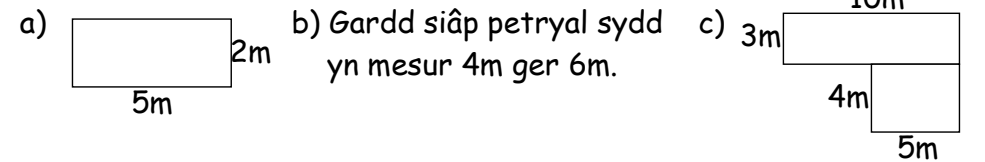
1. Cymerwch bob sgwar isod fel 1cm^2 . Cyfrifwch perimedr ac arwynebedd y siapau isod. [4]



2. Cyfrifwch perimedr y siapau isod: [3]

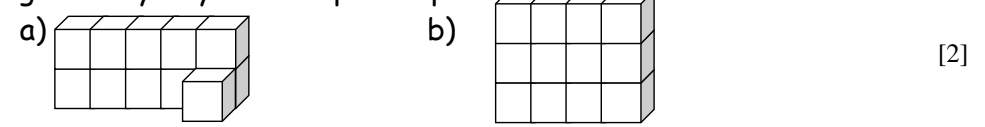


3. Cyfrifwch arwynebedd a perimedr y siapau isod: [4]



4. Mae llawr yn mesur 4m ger 7m.
a) Darganfyddwch arwynebedd y llawr
b) Mae Ian yn gosod carped i lawr sydd yn costi £10 y metr sgwar. Faint ydy hi'n gosti i carpedi'r llawr? [3]

5. Mae'r diagramau wedi'u wneud o ciwbau sydd yn 1cm^3 . Faint o giwbau sydd yn wneud pob siap? [2]



6. Cyfrifwch cyfaint y ciwboidau isod: [4]

