

Clip: 61, 12, 76, 77

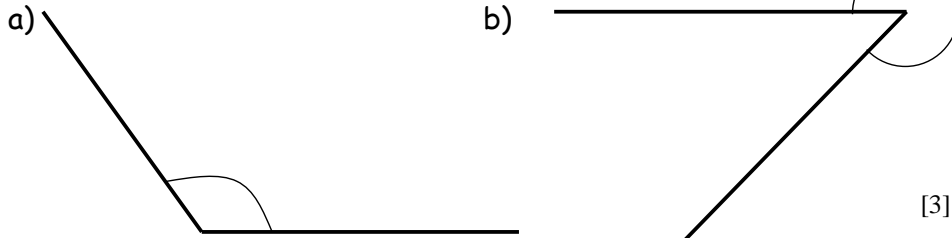
**GWAITH CARTREF**  
**PENNOD 27: LLUNIADAU 1**

Erbyn: \_\_\_\_\_

1. Mesurwch hyd y gwrthrychau yma:



2. Mesurwch maint yr onglau yma



3. Lluniwch yr onglau yma. Dechreuwch trwy lluniadu llinell llorweddol.

a)  $55^\circ$       b)  $140^\circ$       c)  $220^\circ$  [3]

4. Lluniwadwch yn manwl gywir y triogl yma



5. Dyma lori wedi ei llunadu wrth raddfa, sef 1cm i 2m.

a) Pan mor hir yw'r lori iawn? [2]  
b) Byddai'n lori yn gallu mynd o dan bont sydd â uchder o 4m?



6. Tair tref yw Castell Nedd, Abertawe a Rhydaman. Mae Castell Nedd yn 20Km o Abertawe ar gyfeiriant o  $060^\circ$ . Mae Rhydaman yn 40Km o Abertawe ar gyfeiriant o  $310^\circ$ . Tynnwch lluniad wrth raddfa i ddangos y tair tref. Defnyddiwch y raddfa 1cm i 2Km. [4]

18

Clip: 61, 12, 76, 77

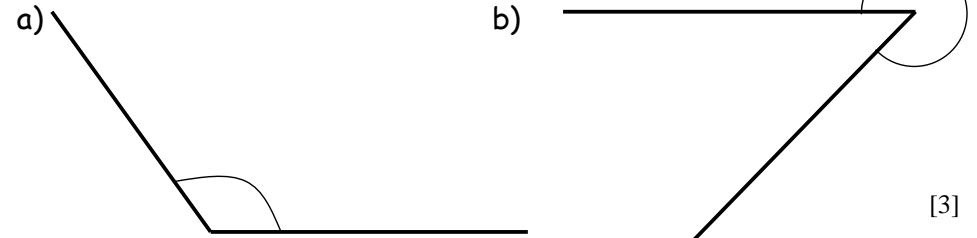
**GWAITH CARTREF**  
**PENNOD 27: LLUNIADAU 1**

Erbyn: \_\_\_\_\_

1. Mesurwch hyd y gwrthrychau yma:




2. Mesurwch maint yr onglau yma



3. Lluniwch yr onglau yma. Dechreuwch trwy lluniadu llinell llorweddol.

a)  $55^\circ$       b)  $140^\circ$       c)  $220^\circ$  [3]

4. Lluniwadwch yn manwl gywir y triogl yma



5. Dyma lori wedi ei llunadu wrth raddfa, sef 1cm i 2m.

a) Pan mor hir yw'r lori iawn? [2]  
b) Byddai'n lori yn gallu mynd o dan bont sydd â uchder o 4m?



6. Tair tref yw Castell Nedd, Abertawe a Rhydaman. Mae Castell Nedd yn 20Km o Abertawe ar gyfeiriant o  $060^\circ$ . Mae Rhydaman yn 40Km o Abertawe ar gyfeiriant o  $310^\circ$ . Tynnwch lluniad wrth raddfa i ddangos y tair tref. Defnyddiwch y raddfa 1cm i 2Km. [4]

18