

Erbyn: \_\_\_\_\_

**GWAITH CARTREF**

**PENNOD 11: ALGEBRA 1**

1. Mae'r llinellau isod wedi'u wneud o 2 ddarn. Beth yw hyd pob llinell?



[2]

2. Mae Mrs Lundy yn prynu 2 peint o laeth ar Dydd Llun a  $p$  peint ar Dydd Mawrth. Ysgrifennwch mynegiad am gyfanswm llaeth mae'n prynu.

[1]

3. Ysgrifennwch mynegiad am hyd y llinell hon.



[1]

4. Mae un pecyn o greision yn costi  $25c$ .

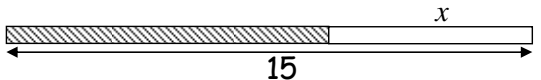
a) Faint ydy 3 pecyn yn costi?

b) Faint ydy 6 pecyn yn costi?

c) Ysgrifennwch mynegiad am cyfanswm cost  $x$  pecyn o greision

[3]

5. Ysgrifennwch mynegiad am hyd y rhan streipiog o'r llinell isod:



[1]

6. Mae gan ysgol dawns 7 yn llai o fechgyn nag o ferched

a) Faint o fechgyn sydd yn yr ysgol os oes yna

i. 15 merch?

ii. 10 merch?

b) Ysgrifennwch fynegiad am nifer y bechgyn os oes  $m$  merched

[3]

7. Mae yna  $y$  o blant yn ysgol Feithrin. Ysgrifennwch fynegiad am nifer y fechgyn os yw'r nifer sy'n ferched yn

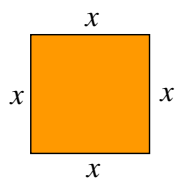
a) 10

b) 15

c)  $g$

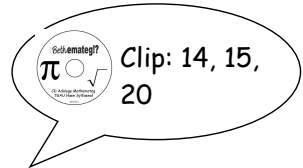
[3]

8. Ysgrifennwch fynegiad am gyfanswm hyd pedair ochr y sgwar hwn.



[1]

15



Erbyn: \_\_\_\_\_

**GWAITH CARTREF**

**PENNOD 11: ALGEBRA 1**

1. Mae'r llinellau isod wedi'u wneud o 2 ddarn. Beth yw hyd pob llinell?



[2]

2. Mae Mrs Lundy yn prynu 2 peint o laeth ar Dydd Llun a  $p$  peint ar Dydd Mawrth. Ysgrifennwch mynegiad am gyfanswm llaeth mae'n prynu.

[1]

3. Ysgrifennwch mynegiad am hyd y llinell hon.



[1]

4. Mae un pecyn o greision yn costi  $25c$ .

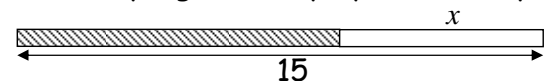
a) Faint ydy 3 pecyn yn costi?

b) Faint ydy 6 pecyn yn costi?

c) Ysgrifennwch mynegiad am cyfanswm cost  $x$  pecyn o greision

[3]

5. Ysgrifennwch mynegiad am hyd y rhan streipiog o'r llinell isod:



[1]

6. Mae gan ysgol dawns 7 yn llai o fechgyn nag o ferched

a) Faint o fechgyn sydd yn yr ysgol os oes yna

i. 15 merch?

ii. 10 merch?

b) Ysgrifennwch fynegiad am nifer y bechgyn os oes  $m$  merched

[3]

7. Mae yna  $y$  o blant yn ysgol Feithrin. Ysgrifennwch fynegiad am nifer y fechgyn os yw'r nifer sy'n ferched yn

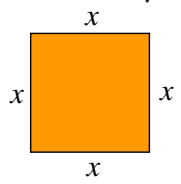
a) 10

b) 15

c)  $g$

[3]

8. Ysgrifennwch fynegiad am gyfanswm hyd pedair ochr y sgwar hwn.



[1]

15