

Erbyn: _____

GWAITH CARTREF

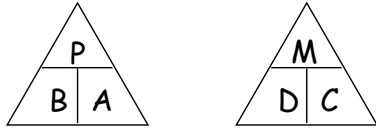
PENNOD 33: MESURAU 2

1. Trawsnewidwch yr unedau hyn
- a) 30m i cm b) 38cm i mm c) 20m i mm
- ch) 4m² i cm² d) 220cm² i m² dd) 2000mm² i cm² [6]

2. Mae cyfaint jwg yn 250ml, yn gywir i'r 10ml agosaf. Rhwch ffiniau isaf ac uchaf pob un o'r mesuriau hyn. [2]

3. Mae Jess yn fesur trwch darn metal. Y lled yw 4.87mm yn gywir i'r 0.01mm agosaf.
- a) Beth yw'r trwch fwyaf bosib? [2]
- b) Beth yw'r trwch lleiaf bosib?

Cofwch:



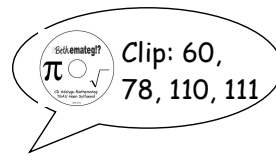
4. Darganfyddwch buanedd cyfartalog, mewn mya (mph) car sy'n teithio
- a) 120 milltir mewn un awr a hanner. [2]
- b) 80 milltir mewn 90 munud

5. Mae tren yn teithio ar buanedd cyfartalog o 90mya am 3 awr. Pa mor bell ydy'r tren wedi teithio? [1]

6. Cyfrifwch dwysedd y gwrthrychau isod
- a) Mas o 20g a chyfaint o 5cm³ [2]
- b) Mas o 100g a chyfaint o 2.5cm²

7. Mae gan dref poblogaeth o 84000 ac mae'n cwmpasu arwynebedd o 30Km². Cyfrifwch ddwysedd poblogaeth y dref. [2]

17



Erbyn: _____

GWAITH CARTREF

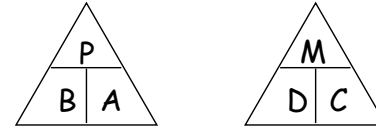
PENNOD 33: MESURAU 2

1. Trawsnewidwch yr unedau hyn
- a) 30m i cm b) 38cm i mm c) 20m i mm
- ch) 4m² i cm² d) 220cm² i m² dd) 2000mm² i cm² [6]

2. Mae cyfaint jwg yn 250ml, yn gywir i'r 10ml agosaf. Rhwch ffiniau isaf ac uchaf pob un o'r mesuriau hyn. [2]

3. Mae Jess yn fesur trwch darn metal. Y lled yw 4.87mm yn gywir i'r 0.01mm agosaf.
- a) Beth yw'r trwch fwyaf bosib? [2]
- b) Beth yw'r trwch lleiaf bosib?

Cofwch:



4. Darganfyddwch buanedd cyfartalog, mewn mya (mph) car sy'n teithio
- a) 120 milltir mewn un awr a hanner. [2]
- b) 80 milltir mewn 90 munud

5. Mae tren yn teithio ar buanedd cyfartalog o 90mya am 3 awr. Pa mor bell ydy'r tren wedi teithio? [1]

6. Cyfrifwch dwysedd y gwrthrychau isod
- a) Mas o 20g a chyfaint o 5cm³ [2]
- b) Mas o 100g a chyfaint o 2.5cm²

7. Mae gan dref poblogaeth o 84000 ac mae'n cwmpasu arwynebedd o 30Km². Cyfrifwch ddwysedd poblogaeth y dref. [2]

17