




Clip: 112

Erbyn: _____


GWAITH CARTREF

PENNOD 23: LLUNIADAU 2

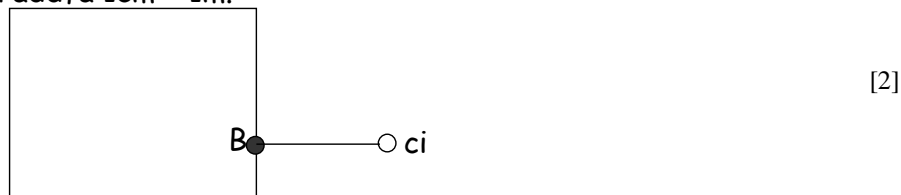
1. Mae drws selar yn troi (hinged) o bwynt P. Lluniadwch locws y canolbwynt M wrth iddo cwmpo tua'r llawr.




2. Mae disc siap cylch, gyda canolbwynt C, yn rholio i lawr llethr ac yna ar draws tir fflat. Lluniadwch locws C wrth iddo rholio o X i Y.



3. Mae ci yn sownd i rhaff 2m mewn hyd, sydd yn sownd i'r wal yn B. Lluniadwch locws yr ardal mae'r ci yn gallu mynd. Defnyddiwch y graddfa 1cm = 1m.



4. Mae ABCD yn petryal.



Lluniadwch locws y pwyntiau sydd yn:

- a) yr un mor bell o AB ac i AD. [4]
- b) Sydd yn 1cm o DC.




Clip: 112

Erbyn: _____


GWAITH CARTREF

PENNOD 23: LLUNIADAU 2

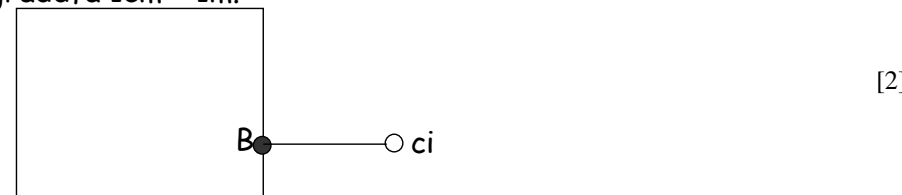
1. Mae drws selar yn troi (hinged) o bwynt P. Lluniadwch locws y canolbwynt M wrth iddo cwmpo tua'r llawr.




2. Mae disc siap cylch, gyda canolbwynt C, yn rholio i lawr llethr ac yna ar draws tir fflat. Lluniadwch locws C wrth iddo rholio o X i Y.



3. Mae ci yn sownd i rhaff 2m mewn hyd, sydd yn sownd i'r wal yn B. Lluniadwch locws yr ardal mae'r ci yn gallu mynd. Defnyddiwch y graddfa 1cm = 1m.



4. Mae ABCD yn petryal.



Lluniadwch locws y pwyntiau sydd yn:

- a) yr un mor bell o AB ac i AD. [4]
- b) Sydd yn 1cm o DC.