



Erbyn: _____

GWAITH CARTREF

PENNOD 41: CASGLU DATA

1. Lluniwch graff llinell fertigol a siart bar i ddangos y data isod:

Nifer o anifeiliad anwes	Amllder
0	8
1	1
2	7
3	4
4	5
Mwy na 4	2

[4]

2. Dyma tabl dwy ffordd i ddangos canlyniadau arolwg ceir.

a) Cwblhewch y tabl.

	JAPANEAIDD	DIM JAPANEAIDD	CYFANSWM
Coch	52	48	
Dim Coch	118	952	
Cyfanswm			

b) Faint o geir oedd yn yr arolwg?

c) Faint o geir Japaneaidd coch oedd yn yr arolwg?

d) Faint o geir Japaneaidd oedd dim yn goch oedd yn yr arolwg?

e) Faint o geir goch oedd yn yr arolwg?

[6]

3. Cwblhewch y tabl amllder isod. Lluniwch diagram amllder I arddangos y data. Defnyddiwch y grwpiau 1 - 10, 11 - 20 ayb.

12, 45, 23, 23, 22, 21, 56, 32, 34, 1, 23, 4, 5, 7, 3, 23, 34, 32, 12, 9, 44, 45, 6, 34, 35, 55, 52, 32, 36, 27, 28, 30, 28, 27, 17, 18, 15, 48, 49, 50, 39, 38, 45, 46, 47, 38, 21, 20, 30, 23, 24, 26, 37, 41.

Nifer o Afalau	Tali	Amllder
1 - 10		
11 - 20		
21 - 30		

16

[6]



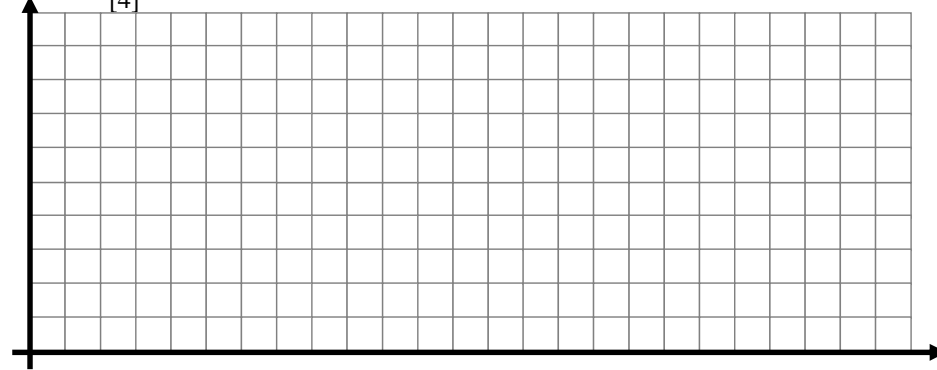
Erbyn: _____

GWAITH CARTREF

PENNOD 41: CASGLU DATA

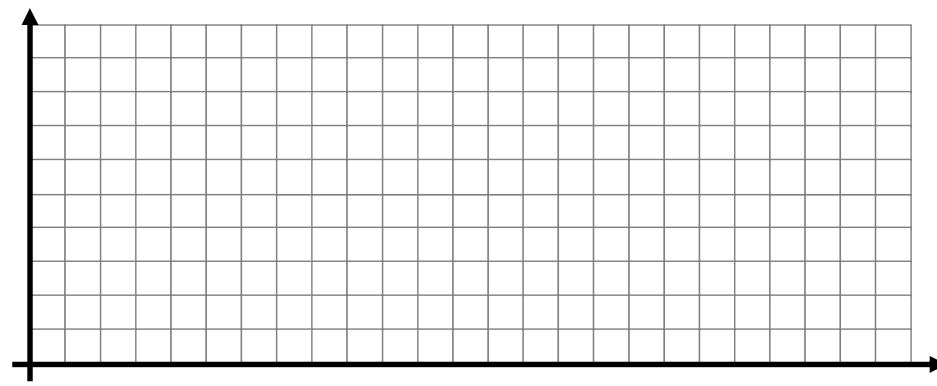
1. Graff llinell fertigol

[4]



Siart bar

[2]



[2]

3. Tabl Amllder

Nifer o Afalau	Tali	Amllder
1 - 10		
11 - 20		
21 - 30		
31 - 40		
41 - 50		
51 - 60		

[3]




Clip: 25,
26, 27

Erbyn: _____

GWAITH CARTREF

PENNOD 41: CASGLU DATA

3. Diagram Amllder



[3]