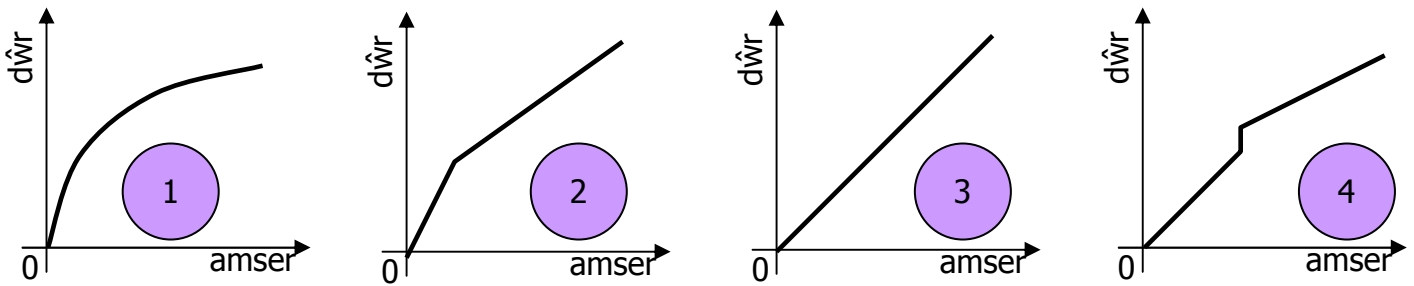
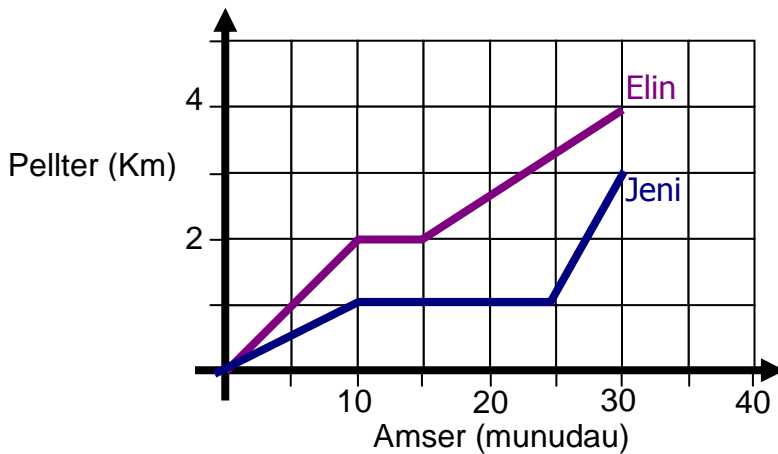


1. Mae dŵr yn cael ei arllwys i bob un o'r gwydrau hyn ar gyfradd gyson nes eu bod yn llawn. Mae'r graffiau isod yn dangos dyfnder y dŵr yn erbyn amser. Matsiwch lan y graff fwyaf addas gyda'r gwydryn fwyaf addas.

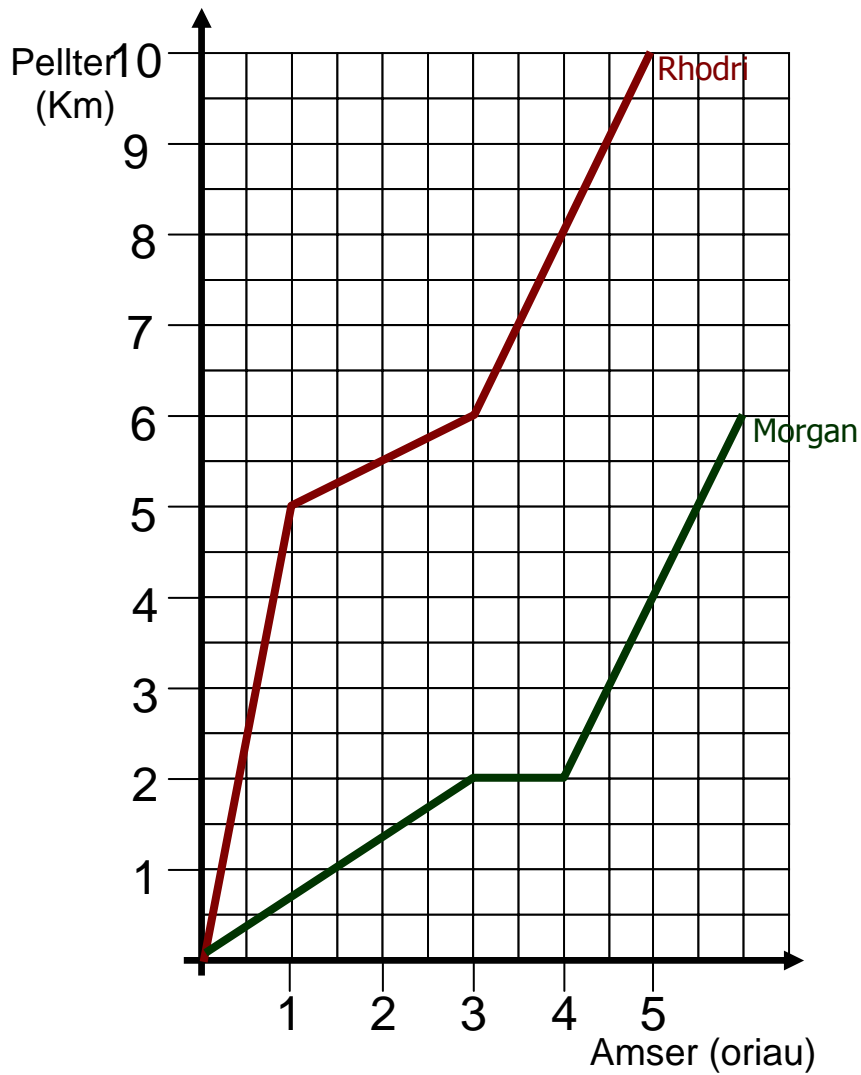


2. Mae'r graff isod yn dangos taith Elin a Jeni i'r ysgol.



- a) Disgrifiwch daith Elin i'r ysgol.
- b) Am faint o amser ydy Jeni yn aros yn llonydd?
- c) Pwy sy'n byw yn agosach at yr ysgol?
- ch) Faint o amser ydy e'n cymryd i Jeni cyrraedd yr ysgol?

3. Mae'r graff isod yn dangos taith Rhodri a Morgan.



a) Darganfyddwch fuanedd cyfartalog Rhodri.

b) Darganfyddwch fuanedd cyfartalog Morgan.