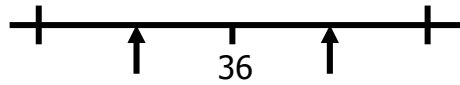
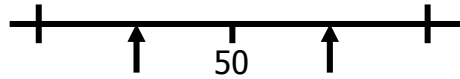


1. Darganfyddwch y ffin isaf a'r ffin uchaf bob un o'r mesuriadau isod:

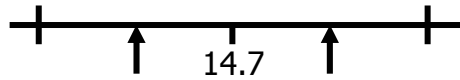
a) 36mm i'r mm agosaf



b) 50cm i'r 10cm agosaf



c) 14.7g i'r 0.1g agosaf



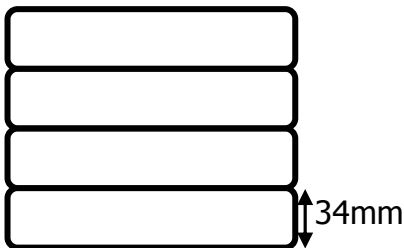
ch) 14cm i'r cm agosaf



d) 70mm i'r 10mm agosaf




2. Mae 4 llyfr yn cael ei rhoi lawr un ar ben y llall. Mae pob mesuriad i'r mm agosaf.



(a) Cyfrifwch yr uchder fwyaf bydd gan y 4 llyfr yma.

(b) Cyfrifwch yr uchder lleiaf bydd gan y 4 lyfr yma.

3. Mae 3 llyfr yn cael ei rhoi ar silff ochr wrth ochr. Mae pob mesuriad i'r mm agosaf. Lled 1 llyfr yw 2.5cm.



a) Cyfrifwch y lled fwyaf bydd gan y 3 llyfr yma.

b) Cyfrifwch y lled lleiaf bydd gan y 3 llyfr yma.