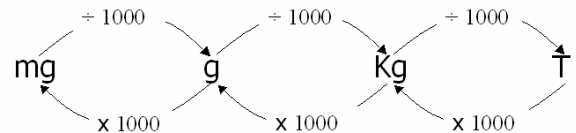
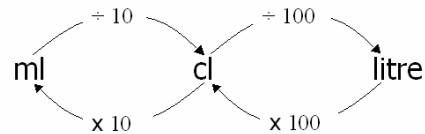
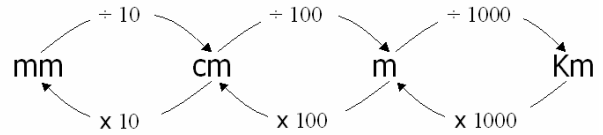


I newid unedau mesur mae rhaid i chi cofio'r ffeithiau yma:

- | | | |
|-------------|------------------|------------------|
| 1cm = 10mm | 1 Litre = 100cl | 1g = 1000mg |
| 1m = 100cm | 1 Litre = 1000ml | 1Kg = 1000g |
| 1Km = 1000m | 1cl = 10ml | 1 Tonne = 1000Kg |

1. Newidwch yr unedau canlynol i fod yn cm Dyma sut i newid unedau metrig:

- | | |
|----------|----------|
| a) 42m | dd) 90mm |
| b) 6.8m | e) 55mm |
| c) 9.m | f) 731mm |
| ch) 0.9m | ff) 7mm |
| d) 0.06m | g) 892mm |



2. Newidwch yr unedau canlynol i fod yn *l*

- | | |
|------------------|------------------|
| a) 2 <i>l</i> | dd) 90 <i>ml</i> |
| b) 8 <i>l</i> | e) 55 <i>ml</i> |
| c) 12 <i>l</i> | f) 730 <i>ml</i> |
| ch) 0.8 <i>l</i> | ff) 10 <i>ml</i> |
| d) 0.05 <i>l</i> | g) 82 <i>ml</i> |

3. Newidwch yr unedau canlynol i fod yn Kg

- | | |
|------------|------------|
| a) 7 T | dd) 250g |
| b) 3 T | e) 125g |
| c) 15 T | f) 8000g |
| ch) 0.75 T | ff) 12000g |
| d) 0.624 T | g) 4100g |

4. Newidwch yr unedau canlynol i fod yn g

- | | |
|--------|---------|
| a) 2 T | dd) 9 T |
|--------|---------|