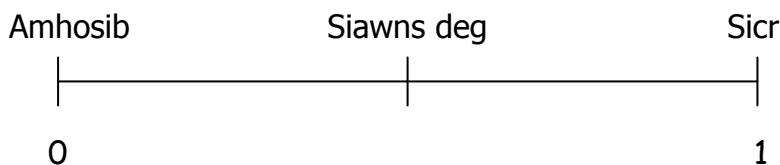


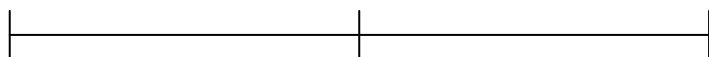


Mesurwyd rhwng 0 ac 1:

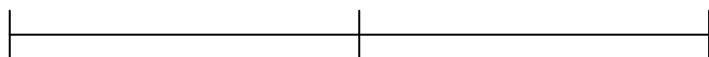


Ar gyfer pob cwestiwn isod, marciwch y pwyntiau **a, b, c** i ddangos pa mor debygol, yn eich tyb chi yw pob un.

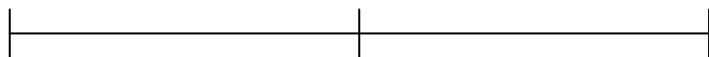
1.
 - a) Byddwch yn mynd adref o'r ysgol heddiw.
 - b) Bydd babi newydd ei eni yn fachgen.
 - c) Byddwch yn cerdded o Gwyr i Gaeredin mewn diwrnod.



2.
 - a) Byddwch yn gwyllo'r teledu rhywbryd heno.
 - b) Byddwch yn cyrraedd yr ysgol yn hwyr o leiaf un waith yn ystod y flwyddyn yma.
 - c) Bydd hi'n bwrw eira ar Mai 1af yn Abertawe.



3.
 - a) Bydd rhywun sy'n cael ei ddewis ar hap o'ch ysgol yn llaw chwith.
 - b) Bydd gan rhywun sy'n cael ei dewis ar hap o'ch ysgol chi o leiaf un anifail anwes.
 - c) Bydd un o'r athrawon eich ysgol chi yn cael ei dewis ar hap yn fenyw.



4. Nodwch i lawr os yw'r datganiadau isod yn sicr, amhosib neu'n bosib.
 - a) Bydd e'n bwrw glaw yfory
 - b) Wrth taflu dis cyffredin bydd e'n glanio ar rhif sy'n llai na 7.
 - c) Bydd Dydd Nadolig ar Rhagfyr 22^{ain} blwyddyn hyn.